



2. ura. UL2

TRIKOTNIKI MALO DRUGAČE

1. Na list A4 nariši poljuben topokotni trikotnik in mu poišči težišče. List s trikotnikom prilepi v matematični zvezek.

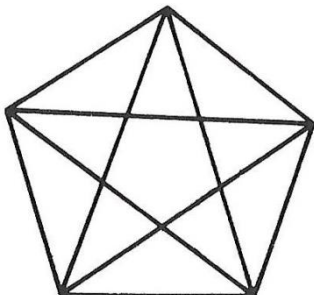


2. Na list A4 nariši poljuben ostrokotni trikotnik in mu poišči višinsko točko. List s trikotnikom prilepi v matematični zvezek.

3. Na list A4 označi 5 poljubnih točk A, B, C, D in E. Načrtaj vse možne trikotnike – zaželjeno je, da uporabljaš različne barve. Koliko trikotnikov ti je uspelo narisati? List prilepi v matematični zvezek.

4. Preizkusi se v opazovanju trikotnikov. Preštej, koliko trikotnikov skrivata spodnji sliki.

(A)



(B)

