
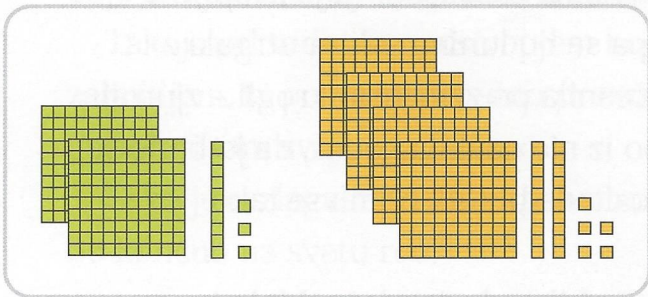


Računamo do 1000

- 1**  Koliko je vsota števil 213 in 425?
Najprej rezultat oceni. Je več ali manj kot 600? Pojasni.



213 je malo več kot 200,
425 pa malo več kot 400.
Rezultat bo malo več kot 600.



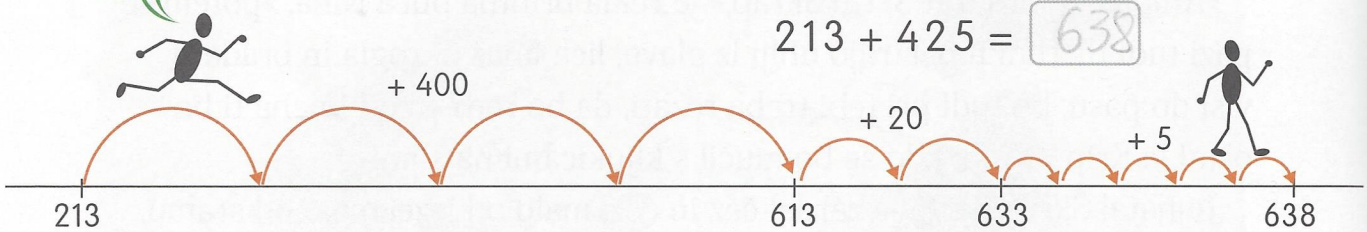
$$213 + 425 = \boxed{638}$$


Vsota je 638.

213 + 400 = 613
613 + 20 = 633
633 + 5 = 638

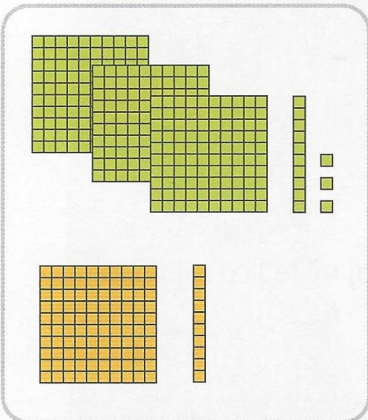
Računanje lahko ponazorimo tudi na številskem traku.

$$213 + 425 = \boxed{638}$$

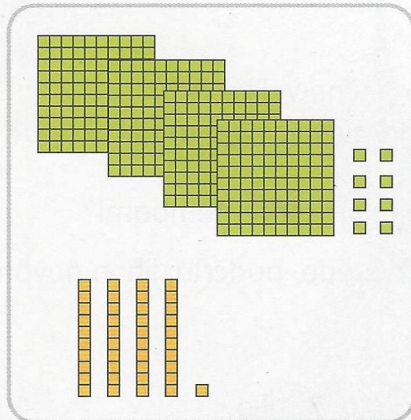


 Pojasni, kako računaš ti.

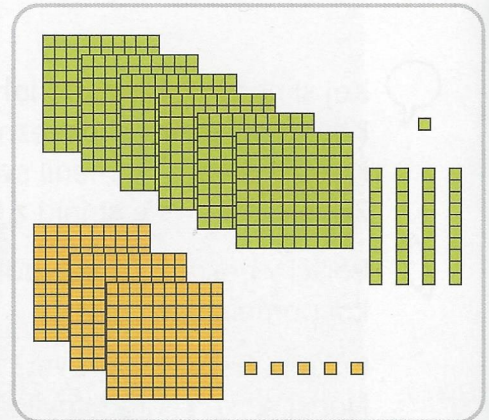
- 2**  Najprej števili zapiši, nato izračunaj vsoto.




$$\boxed{313} + \boxed{110} = \boxed{423}$$



$$\boxed{408} + \boxed{41} = \boxed{449}$$



$$\boxed{541} + \boxed{305} = \boxed{846}$$

3  Izračunaj.

$300 + 200 = 500$

$720 + 100 = 820$

$272 + 200 = 472$

$500 + 60 = 560$




$450 + 40 = 490$

$523 + 50 = 573$


$400 + 5 = 405$

$610 + 57 = 667$

$104 + 21 = 125$

4    Oцени vsote števil. Ob vsakem računu obkljukaj oceno rezultata, nato račune predstavi z igralnim denarjem. Ocene tudi pojasni.

$200 + 310 = 510$



Okrog 500.

Okrog 600.

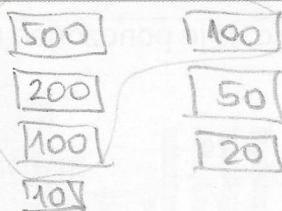
Malo manj kot 500.

Manj kot 800.

Približno 900.

Skoraj 1000.

$810 + 170 = 980$

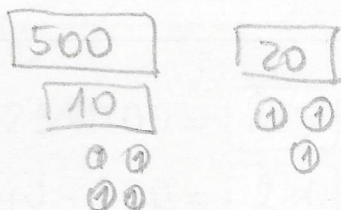


Okrog 500.

Približno 600.

Malo manj kot 700.

$514 + 23 = 537$

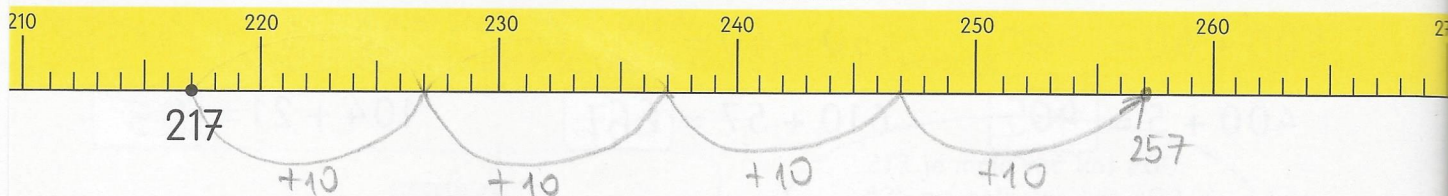


5



Prikaži račun na številskem traku in izračunaj. Pojasni postopek računanja.


$$217 + 40 = 257$$



$$513 + 120 = 633$$



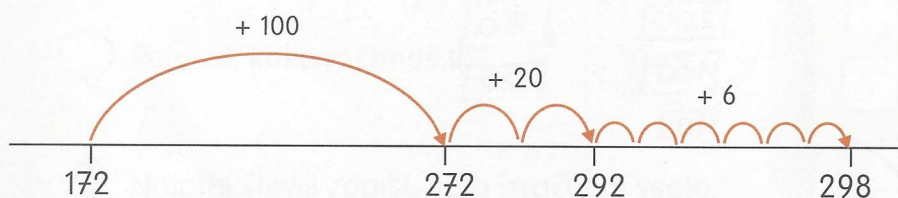
$$620 + 210 = 830$$



6



Zapiši račun seštevanja, ki je ponazorjen na številskem traku.

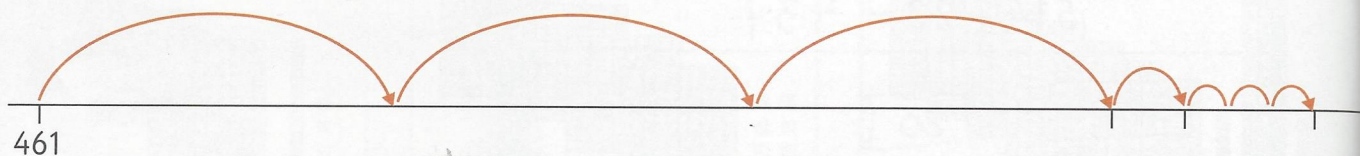


$$172 + 126 = 298$$


$$172 + 100 = 272$$

$$272 + 20 = 292$$

$$292 + 6 = 298$$



$$461 + 313 = 774$$

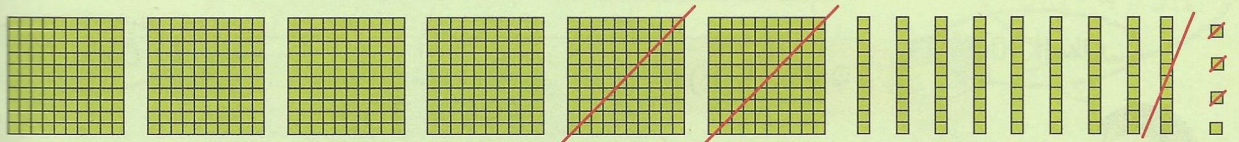


$$703 + 246 = 949$$

7



Koliko je razlika števil 694 in 213?
Najprej rezultat oceni. Pojasni svojo oceno.



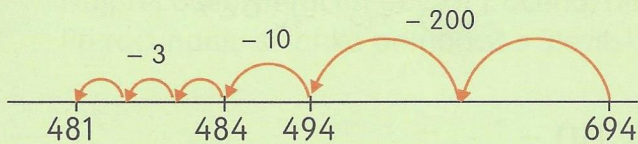
$$694 - 213 = 481$$

Razlika je 481.

694 je skoraj 700,
213 je malo več kot 200.
Rezultat je okrog 500.



Prikažimo račun odštevanja še na številskem traku.




$$694 - 213 = 481$$

8



Izračunaj.



$$325 - 100 = 225$$

$$540 - 30 = 510$$

$$616 - 203 = 413$$

$$325 - 100 = 225$$

$$560 - 40 = 520$$

$$354 - 44 = 310$$

$$540 - 300 = 240$$

$$258 - 50 = 208$$

$$865 - 403 = 462$$

$$716 - 200 = 516$$

$$170 - 20 = 150$$

$$620 - 110 = 510$$

$$700 - 300 = 400$$

$$917 - 6 = 911$$

$$541 - 201 = 340$$

9 

Timotej in Janja sta dobro ocenila rezultat dveh računov. Katerih?



Okoli 300.

$316 - 100$

$925 - 420$

$799 - 500$

$699 - 300$

$892 - 190$

$512 - 407$

$290 - 85$



Okoli 700.


10  

Prikaži račun na številskem traku in izračunaj. Pojasni postopek računanja.


$829 - 20 = 809$



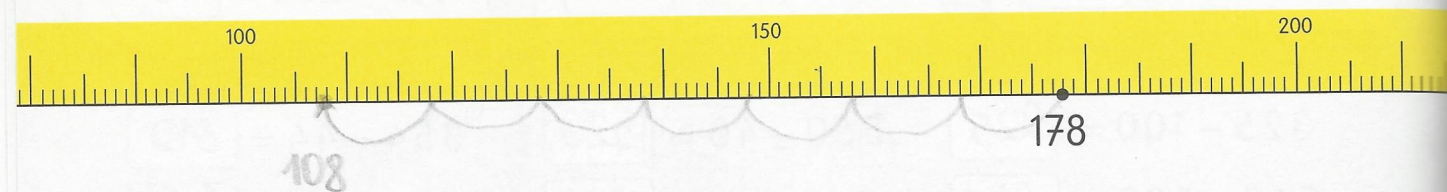
$573 - 110 = 463$




$354 - 130 = 224$



$178 - 70 = 108$



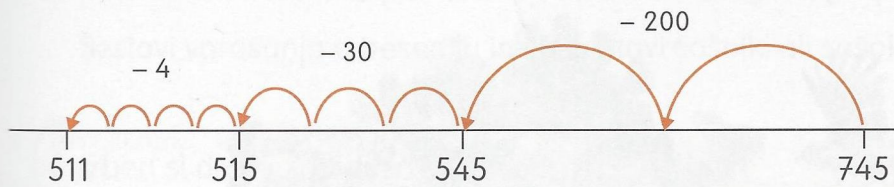
$994 - 90 = 904$



30

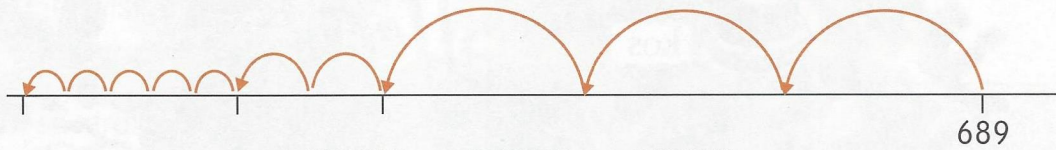
904

11 Zapiši račun odštevanja, ki je ponazorjen na številskem traku.



$$\boxed{745} - \boxed{234} = \boxed{511}$$

745 - 200 = 545
545 - 30 = 515
515 - 4 = 511



$$\boxed{689} - \boxed{325} = \boxed{364}$$

12 Najprej oceni in račun poveži z oceno, nato izračunaj. Pri računanju si lahko pomagaš s številskim trakom ali igralnim denarjem.

638 - 120 = $\boxed{518}$

400 + 52 = $\boxed{452}$

750 - 350 = $\boxed{400}$

992 - 400 = $\boxed{592}$

564 - 40 = $\boxed{524}$

Okoli 600.

Okoli 500.

Okoli 400.

317 + 300 = $\boxed{617}$

800 - 360 = $\boxed{}$

590 - 89 = $\boxed{501}$

13 V potujoči knjižnici so na knjižne police postavili 784 knjig. V petek so imeli na polici 512 knjig. Koliko knjig je bilo izposojenih?

Račun: $784 - 512 = 272$

Odgovor: Izposojenih je bilo 272 knjig.