

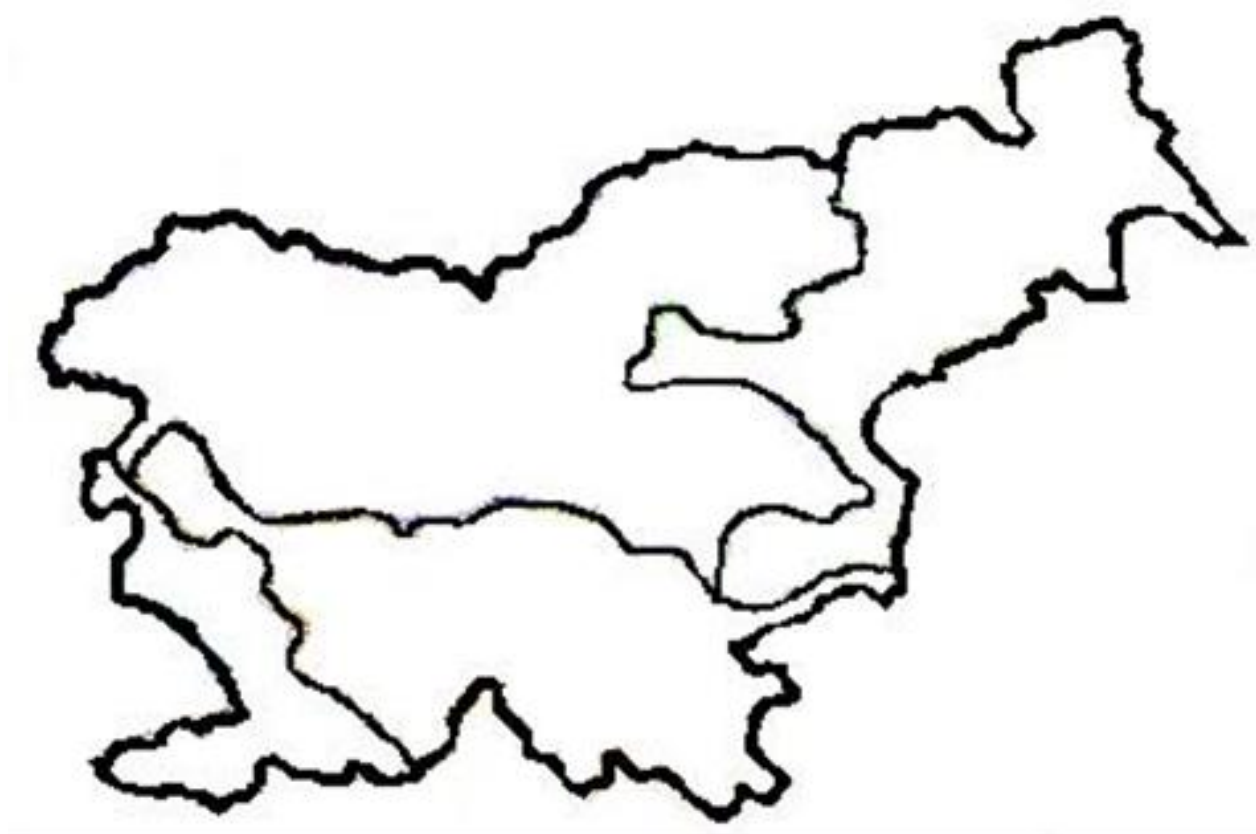
Ime in priimek: _____

Slovenske pokrajine

1. Pravilno poveži pokrajine in dele Slovenije kamor spadajo:

Alpske pokrajine	severozahodni del Slovenije
Predalpske pokrajine	večji del južne Slovenije
Dinarske pokrajine	osrednji del Slovenije
Panonske pokrajine	jugozahodni del Slovenije
Primorske pokrajine	severovzhodna Slovenija

2. V nemo karto zapiši imena naravnogeografskih enot Slovenije.



3. Kako delimo alpske pokrajine, na katera 3 gorovja:

Pravilno poveži najvišje vrhove in gorovja:

Triglav	Karavanke
Grintavec	Julijske Alpe
Stol	Kamniško Savinjske Alpe

4. S pomočjo zemljevida poišči 2 ledeniški dolini (TRENTO, LOGARSKA DOLINA) in dopiši, kateri dve reki imata izvir v teh dolinah.

Trenta _____ Logarska dolina _____

5. Kako se imenuje naš edini narodni park? _____

Kateri del alpskih pokrajin obsega?

a) Julijske Alpe b) Kamniško Savinjske Alpe

Napiši 2 pravili, ki veljata za obnašanje v parku:

6. S čim se preživlja večina prebivalstva alpskih pokrajin?

7. Na katera 3 hribovja delimo predalpske pokrajine?

Katera velika kotlina leži vmes med hribovji? _____

8. Na kateri strani hribovij je prebivalstvo bolj gosto poseljeno?

a) prisojna

b) osojna

9. Pravilno razvrsti kraje alpskih in predalpskih pokrajin pe tem, ali so znani kot naravna ali kulturnozgodovinska znamenitost ali športno središče. Številko dopiši k znamenitosti.

Blejsko jezero in otok ___

Blejski grad___

1 naravna znamenitost

Kranjska gora___

2 kulturno zgodovinska znamenitost

Kamnik ___

3 športno središče

Bohinjsko jezero ___

slap Savica___

Planica ___

Logarska dolina___

planšarske hiše na VELIKI PLANINI_____

10. Kje v predalpskih pokrajinah so najbolj znani po čipkarstvu?



a) Kamnik b) Idrija

11. Po katerih naravnih pojavih so najbolj znane dinarske pokrajine? _____


12. Naštej 5 kraških pojavov.

13. Kakšna kamnina prevladuje v dinarskih pokrajinah?

A) apnenec b) peščenjak c) dolomit

Zakaj na apnencu nastajajo kraški pojavi? _____

14. K puščicam zapiši imena posameznih kapnikov v kraških jamah.



15. Kako imenujemo reke, ki poniknejo oz tečejo skozi kraške jame? _____

Po površju pa tečejo čez kraška polja.

16. Katero je naše znano presihajoče jezero? _____

17. Na sliki je ena izmed zelo znanih kraških jam. Ali veš, katera jama je to? Zapiši njeno ime.



18. S pomočjo zemljevida Slovenije napiši še 2 znani kraški jami.

19. Na zemljevidu poišči reki ponikalnici: Pivka in Unica. Katera teče skozi Postojnsko jamo? _____

20. Po kateri domači obrti je znana RIBNICA? _____ Po čem pa so znane BLOKE? a) smuči b) pustne maske

21. Na kateri dve reliefni obliki delimo panonske pokrajine?

Poveži med seboj reliefno obliko in njeno ime:

Haloze

Slovenske gorice

gričevja

Pomurje

ravnine

Goričko

Celjska kotlina

22. Kje prevladuje vinogradništvo in sadjarstvo? a) gričevje b) ravnine

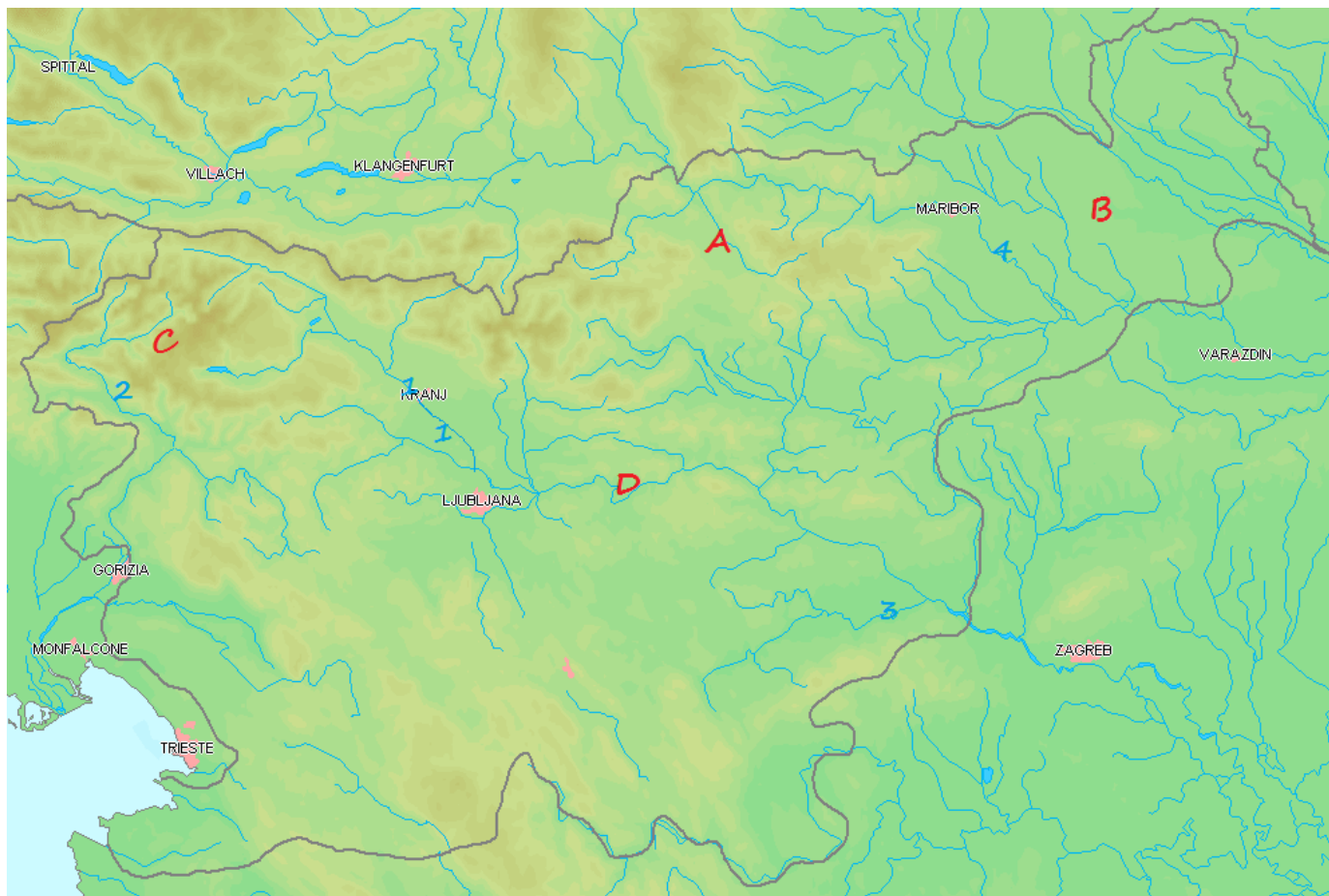
23. Po kateri domači obrti so tudi znani v panonskih pokrajinah?

a) lončarstvo b) slamnikarstvo c) suha roba d) čipkarstvo

24. Ustrezno dopolni manjkajoče besede. Panonske pokrajine imajo najbolj sušno podnebje in v poletnem času te kraje večkrat ogroža tudi _____, ki zelo prizadene poljščine. Najbolj nižinska reka je _____, na kateri je bilo nekoč veliko plavajočih mlinov. Najbolj ugodna za pridobivanje električne energije pa je reka _____, ki teče skozi Maribor. Največji kraj v Pomurju je _____ Sobota.

25. Dopolni s pomočjo zemljevida nemo karto Slovenije tako, da dopišeš ustrezno številko ali črko.

Legenda :modre številke od 1 – 4 so reke, rdeče črke od A do D so reliefne oblike ali pokrajine



Reke: KRKA __, SAVA __, DRAVA __, SOČA __

Pokrajine, reliefne oblike: JULIJSKE ALPE __, POHORJE __, SLOVENSKE GORICE __, POSAVSKO HRIBOVJE _____

26. Katera naša naravna enota je najbolj pod vplivom morja? _____

27. Opiši kraško hišo. _____

28. Naštej pokrajine v notranjosti. Pomagaj si z zemljevidom.

29. Kako se imenuje naša edina pomorska luka? _____

