





**9** Lučka in Brin sta merila višino šolske klopi. Ali sta namerila enako? Pojasni svoj odgovor.

 Oцени v decimetrih, koliko meri dolžina, širina in višina tvoje šolske klopi. Nato preveri z merjenjem.

	Ocena	Meritev
Dolžina	___ dm	___ dm ___ cm
Širina	___ dm	___ dm ___ cm
Višina	___ dm	___ dm ___ cm




**10**   Zapiši v ustreznih merskih enotah. Pomagaj si z merilnimi pripomočki.

2 dm = 20 cm

3 m = 300 cm

4 m 20 cm = 420 cm



**11**  Zapiši v ustreznih merskih enotah.

135 cm = 1 m 35 cm

650 cm = 6 m 50 cm

800 cm = 8 m 0 cm

4 m 20 cm = 420 cm

2 m 90 cm = 290 cm

6 m 5 cm = 605 cm