




10



Solkanski železniški most, 220 m



Most Loka v Novem mestu, 100 m



Puhov most čez Dravo, 430 m



Most čez Muro, 833 m



a Kateri od mostov na sliki je najdaljši? Most čez Muro.

b Kateri je najkrajši? Most Loka v Novem mestu.

c Za koliko metrov je most čez Muro daljši od mosta Loka?

Račun: $833\text{ m} - 100\text{ m} = 733\text{ m}$

Odgovor: Daljši je za 733 metrov.

č Za koliko metrov je Puhov most daljši od Solkanskega?

Račun: $430\text{ m} - 220\text{ m} = 210\text{ m}$

Odgovor: Daljši je za 210 metrov.

11



Poveži račun z oceno rezultata.

$320 + 160$

$660 + 45$

$888 - 180$

$273 + 20$

Okoli 300.

Skoraj 500.

Približno 700.



$420 + 75$

$790 - 300$

$180 + 120$

$740 - 47$