



1. a) Oglej si slike. V okvir pod pojmom **napiši ustrezno številko** slike. (2 pojma številke ne dobita.)

akropola	svetišče	grško gledališče	agora	rimski amfiteater	vila	akvadukt	cesta	forum

1



2



3



4




5



6

7



b) Izpiši pojma, ki sta ostala brez številke, in ju **razloži**.

2. Odgovori.

a) Katere **materiale** so za gradnjo uporabljali Rimljani?

b) Čemu so bili namenjeni na slikah (v 1. nalogi) prikazani gradbeni dosežki?

c) Navedi eno **razliko** in eno **podobnost** med grškim in rimskim gradbeništvom.

Razlika:

Podobnost:

3. Oglej si sliko in reši nalogo.

a) Poimenuj zgradbo na sliki.

b) Napiši, čemu je bila zgradba **namenjena**.

c) Napiši **ime zgodovinskega obdobja**, v katerem je zgradba nastala.



4. Mesta ob Sredozemskem morju so se **ohranila iz rimskih časov**, v notranjosti Evrope pa so od 9. st. dalje **nastajala na novo**. **Napiši**, kaj velja za posamezne **elemente srednjeveškega mesta**.

Hiše:

Ulice:

Trg:

Mestna hiša:

Cerkev:

Špital:

Pridobivanje vode iz

Čistoča:

Zaščita:

Nastanek:



5. Z začetkom razvoja industrije (**18. st.**) se je v mesta **priseljevalo vse več ljudi**, ki so iskali delo v tovarnah. Mesta so se začela širiti (na obrobju so gradili **tovarne in delavska naselja**), zato so **izgubila obzidje**.

a) Opiši **delavske hiše 18. st.** (material, št. prostorov).

b) Kateri **družbeni sloj** je bival **v središču mesta**?

c) Kakšne so bile **stavbe in ulice v središču mesta**?

6. **Obkroži** pravilno trditev.

A V zadnjih 100 letih so se mesta zelo zmanjšala/povečala.

B Večina prebivalcev sodobnih mest ima tekočo vodo, elektriko, kanalizacijo/nima tekoče vode, elektrike, kanalizacije.

C Tekoče vode, elektrike in kanalizacije nimajo barakarska mesta v velemestih velikih držav/mesta v Sloveniji.

Č Na obrobju/V središčih sodobnih mest se nahajajo nebotičniki, stolpnice in spalna naselja.

7. Črke naslednjih besed so med seboj premešane. Poišči pravi **vrstni red**. Dobil boš imena **sodobnih gradbenih materialov in pripomočkov**.

KLOTES _____

RJAVEŽ _____

TEBON _____

ŠAMECEL ATONEB _____

KOLEJ _____

LINTRAV OJSTR _____

BOZENOTLEŽE _____